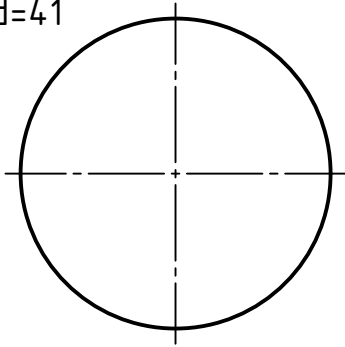


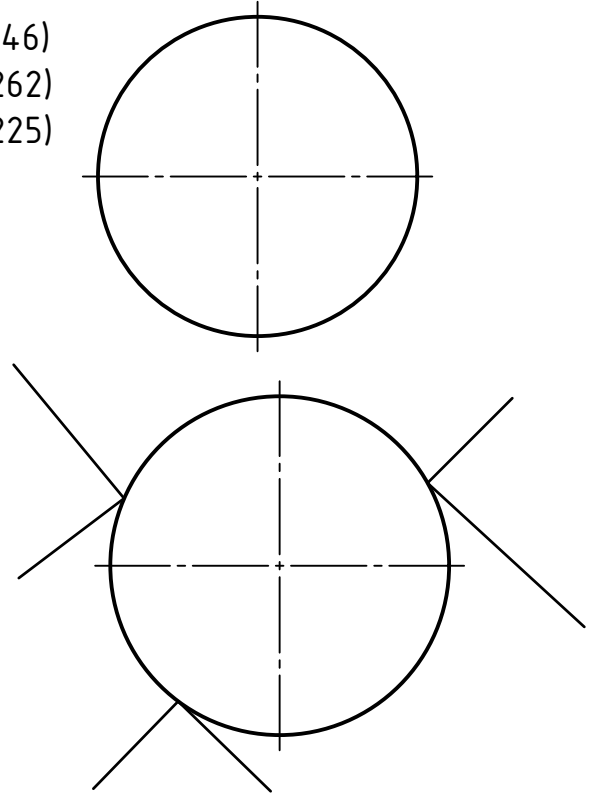
Konstruiere die Kreise mit Mittellinien:

Die Mittellinien sollen genau 2mm über den Rand stehen!

M (51,236)
d=41

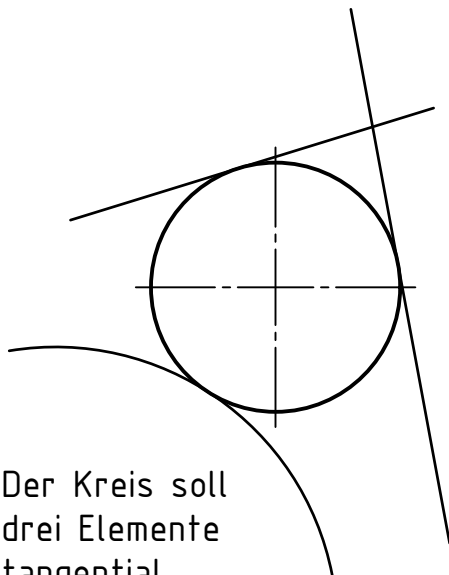


P1 (125,246)
P2 (159,262)
P3 (152,225)

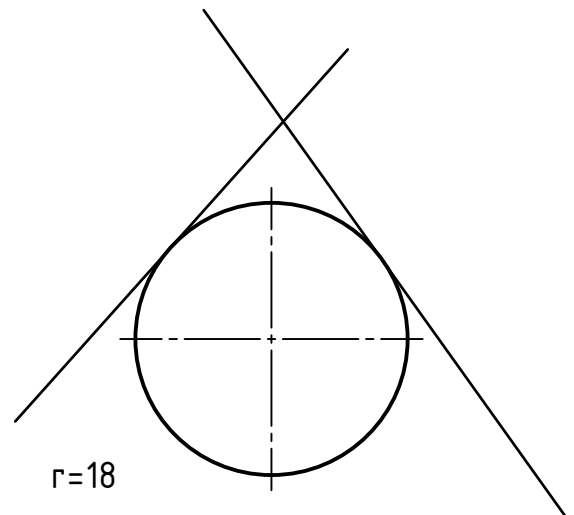


Die Linie bildet den
Durchmesser des Kreises!

Der Kreis soll genau innerhalb
der drei Spitzen liegen!



Der Kreis soll
drei Elemente
tangential
berühren!



Der Kreis soll beide
Tangenten berühren!

Polytechnische Schule
Klagenfurt

| | | |
|--------|------------|------------------|
| | Datum | Name |
| Gez.: | 04.04.2016 | Nachname Vorname |
| Gepr.: | | |

Klasse
K

M
1:1

Kreise mit Mittellinie

Zng.-Nr.
Ü03-2